

باسمه تعالی

سؤالات امتحان نهایی درس: جغرافیا (۲)	رشته‌ی: ادبیات و علوم انسانی	ساعت شروع: ۸ صبح	مدت امتحان: ۹۰ دقیقه
سال سوم دوره ی متوسطه		تاریخ امتحان: ۱۳۹۱/۳/۱۰	
دانش آموزان و داوطلبان آزاد سراسر کشور در خرداد ماه سال ۱۳۹۱		مرکز سنجش وزارت آموزش و پرورش http:aee.medu.ir	

ردیف	سؤالات	نمره
------	--------	------

۱	ناحیه را تعریف کنید.	۱
۲	برای هر یک از معیار های تقسیم نواحی (طبیعی_ انسانی) زیر یک محدوده جغرافیایی مثال بزنید؟ الف) خاک ب) زبان ج) ناحیه اقتصادی	۰/۷۵
۳	گزینه درست را انتخاب کنید. الف) محدوده زندگی گرم خاکی جزء کدام یک از بخشهای زیر می باشد. ۱) لیتوسفر ۲) اتمسفر ۳) هیدروسفر ۴) بیوسفر ب) بیشتر پیروان مذهب ارتدوکس مسیحیت در کدام یک از کشورهای زیر زندگی می کنند. ۱) استرالیا ۲) ایالات متحده ۳) روسیه ۴) ایتالیا ج) بیشترین تاثیر منفی آلودگی نفتی در کدام زمینه است. ۱) ارتباطی ۲) انرژی ۳) گردشگری ۴) استخراج واکتشاف د) دلیل حفاظت تپه های ماسه ای در کشور هلند کدامیک از موارد زیر است؟ ۱) استفاده در زمینه کشاورزی ۲) تقلیل تلفات جانی و مالی ۳) تولیدالکتریسیته ۴) جلوگیری از نابودی پوشش گیاهی	۱
۴	به غیر از آب و هوا، کدام عوامل در پراکندگی گیاهان و جانوران در نواحی خاص مؤثرند؟	۰/۵
۵	اصطلاح ساحل شامل چه محدوده ای است؟	۰/۵
۶	چرا فعالیت عوامل تغییر دهنده سواحل، در همه جا یکسان نیست؟ (۳ مورد)	۰/۷۵
۷	در جمله های زیر، جاهای خالی را با کلمات مناسب پر کنید. الف) ازدور شدن صفحات آمریکای شمالی و اوراسیا در اقیانوس اطلس شمالی، کوهستان به وجود آمده است. ب) برای تعیین خطوط میزان، سطح آب های آزاد را مبنای محاسبه قرار می دهند. ج) سیستم کشاورزی نوبتی در نواحی قاره آمریکا، آفریقا و جنوب شرق آسیا رواج دارد. د) ناحیه توندرا از مناطق شبانی و پرورش است.	۱
۸	دو عاملی که باعث تغییر در چشم انداز مناطق کوهستانی شده است را نام ببرید.	۰/۵
۹	چرا فعالیت کشاورزی در نواحی کوهستانی محدود است؟	۰/۵
	« ادامه ی سؤالات در صفحه ی دوم »	

باسمه تعالی


سؤالات امتحان نهایی درس: جغرافیا (۲)		رشته‌ی: ادبیات و علوم انسانی	ساعت شروع: ۸ صبح	مدت امتحان: ۹۰ دقیقه
سال سوم دوره ی متوسطه		تاریخ امتحان: ۱۳۹۱/۳/۱۰		
دانش آموزان و داوطلبان آزاد سراسر کشور در خرداد ماه سال ۱۳۹۱		مرکز سنجش وزارت آموزش و پرورش http:aee.medu.ir		
ردیف	سؤالات	نمره		
۱۰	<p>در کادر زیر پاسخ مناسب را، برای جمله های زیر انتخاب کنید.</p> <p style="border: 1px solid black; padding: 5px; display: inline-block;">ساوان - بیابان زایی - آب های جاری - برخان - بیابان زدایی - باد - سیف - سلو ۱</p> <p>الف) به گسترش بیابان درنواحی گرم و خشک گفته می شود . ب) تپه های ماسه ای طولی شکل که در بیابان شکل گرفته است . ج) عامل فرسایش خیلی مهم درنواحی بیابانی است . د) نوع پوشش گیاهی سرزمین پست کنگو در آفریقا است .</p>	۱		
۱۱	سه مورد از نیازهایی که برای انتقال آب از مناطق مرطوب به مناطق گرم و خشک لازم است را نام ببرید.	+ / ۷۵		
۱۲	<p>پاسخ مناسب را انتخاب کنید .</p> <p>الف) با حذف جنگل ، رودخانه ها توسعه می یابند و بر مقدار آبرفت آنها به شدت (افزایش - کاهش) می یابند . ب) تنوع حشرات در جنگل های مداری (بیشتر - کمتر) از جنگل های استوایی است .</p>	+ / ۵		
۱۳	<p>در مورد نواحی قطبی به این سؤالات پاسخ دهید .</p> <p>الف) علت وزش بادهای قطبی را بنویسید؟ ب) انقلاب تابستانی و انقلاب زمستانی در چه روزهایی از سال رخ می دهند؟ ج) سرزمین لاپلند در منطقه مرزی کدام کشورها قرار دارد؟ د) سه مورد از اطلاعاتی که پژوهشگران با حفاری لایه های عظیم یخ قطبی بدست آورده اند را نام ببرید .</p>	+ / ۵ + / ۵ + / ۵ + / ۷۵		
۱۴	<p>از بین جمله های زیر ، جمله های نادرست را تشخیص و سپس تصحیح نمایید .</p> <p>الف) موقعیت دفاعی خوب به شدت بر توسعه شهر تأثیر می گذارد . ب) برای متمایز کردن شهر از روستا ، ملاک جمعیتی اساس شناخت قرار می گیرد . ج) شهر منچستر از نظر صنعت ماشین سازی دارای اهمیت است . د) حرکت جمعیت از شهرهای بزرگ به روستاها را پدیده شهرگریزی می نامند .</p>	۱		
۱۵	دو دلیل اهمیت شناخت روستاها را برای برنامه ریزی روستایی نام ببرید .	+ / ۵		
۱۶	<p>در مورد طرح هادی روستایی به سؤالات زیر پاسخ دهید .</p> <p>الف) هدف اجرای این طرح چه بوده است؟ ب) این طرح توسط کدام نهاد تهیه و اجرا شده است؟</p>	+ / ۵		
	« ادامه ی سؤالات در صفحه ی سوم »			

باسمه تعالی

سؤالات امتحان نهایی درس: جغرافیا (۲)	رشته‌ی: ادبیات و علوم انسانی	ساعت شروع: ۸ صبح	مدت امتحان: ۹۰ دقیقه
سال سوم دوره ی متوسطه		تاریخ امتحان: ۱۳۹۱/۳/۱۰	
دانش آموزان و داوطلبان آزاد سراسر کشور در خرداد ماه سال ۱۳۹۱		مرکز سنجش وزارت آموزش و پرورش http:aec.medu.ir	

ردیف	سؤالات	نمره
------	--------	------

۱۷	برای هریک از نقش های شهری زیر یک نمونه مثال بزنید . الف) نقش موزه ای - هنری ب) نقش مذهبی ج) نقش دانشگاهی	۰/۷۵
----	---	------

۱۸	باتوجه به شکل زیر ، جاهای خالی را با جواب مناسب پر کنید . 	۰/۷۵
----	--	------

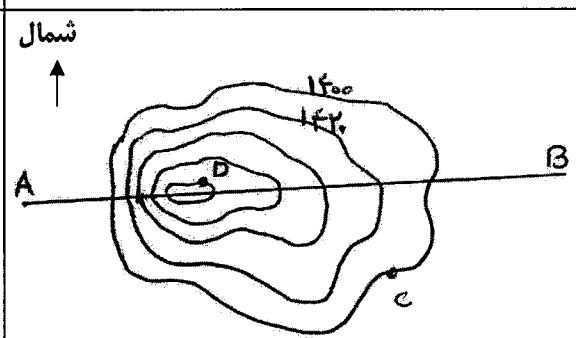
۱۹	حکومت و حاکمیت را باهم مقایسه کنید .	۱
----	--------------------------------------	---

۲۰	سه مورد از عواملی را که در قدرت ملی مؤثر است را نام ببرید .	۰/۷۵
----	---	------

۲۱	در مورد خلیج فارس به سؤالات زیر پاسخ دهید . الف) بزرگ ترین جزیره ایران در خلیج فارس چه نام دارد ؟ ب) علت تشکیل جزیره خارک را بنویسید ؟ ج) خلیج فارس در کدام دوران زمین شناسی تشکیل شده است ؟ د) سواحل شنی و ماسه ای خلیج فارس برای انجام چه فعالیتی مناسب است ؟	۱
----	---	---

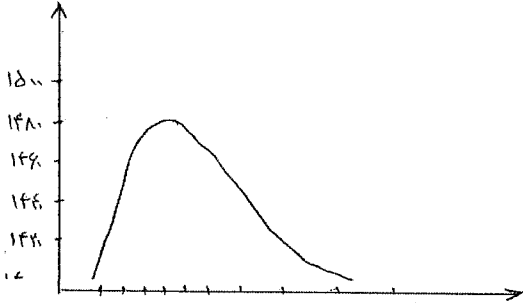
۲۲	تجارت را تعریف کنید.	۱
----	----------------------	---

۲۳	دو مورد از اتحادیه های اقتصادی که کشور ایران در آن عضویت دارد را نام ببرید.	۰/۵
----	---	-----

۲۴	با توجه به شکل زیر موارد خواسته شده را پاسخ دهید. الف) نیمرخ توپوگرافی را در امتداد خط A-B رسم کنید. ب) شکل مقابل چه نوع عارضه ای را نشان می دهد؟ ج) اختلاف ارتفاع بین مکان های C و D چند متر است ؟ 	۱/۲۵
----	---	------

۲۰	جمع نمرات	« موفق باشید »
----	-----------	----------------

مدت امتحان: ۹۰ دقیقه	ساعت شروع: ۸ صبح	رشته: ادبیات و علوم انسانی	راهنمای تصحیح امتحان نهایی درس جغرافیا (۲)
تاریخ امتحان: ۱۰ / ۳ / ۱۳۹۱		سال سوم آموزش متوسطه	
مرکز سنجش آموزش و پرورش http://aee.medu.ir		دانش آموزان و داوطلبان آزاد سراسر کشور خرداد ماه سال ۱۳۹۱	
ردیف	راهنمای تصحیح	نمره	
۱	ناحیه بخشی از سطح زمین است که چهره های ظاهری مشابه در سراسر آن ویژگی خاصی را بوجود می آورند بطوری که با بخش های مجاور خود متفاوت است. یا ناحیه یک محدوده جغرافیایی که در میان خصوصیات طبیعی، انسانی، اجتماعی و فرهنگی تجانس یا هماهنگی و وحدت نسبی وجود دارد.	۰/۲۵ ۰/۲۵ ۰/۲۵ ۰/۲۵	۱
۲	الف) سیروزوم، چرنوزیوم، (یک مورد هر کدام ۰/۲۵). ب) عربی، انگلیسی زبان (یک مورد هر کدام ۰/۲۵). ج) کشورهای توسعه یافته، کشور های نفت خیز خلیج فارس (یک مورد هر کدام ۰/۲۵) یا هر مثال مشابه	۰/۲۵	۲
۳	الف) ۴ یا بیوسفر (ب) ۳ یا روسیه (ج) ۳ یا گردشگری (د) ۲ یا تقلیل تلفات جانی و مالی (هرکدام ۰/۲۵)	۰/۲۵	۳
۴	خاک و ارتفاع (هر کدام ۰/۲۵)	۰/۵	۴
۵	اصطلاح ساحل برای محدوده بین حداکثر مد و پایین ترین حد جزر به کار می رود. ۰/۲۵ ۰/۲۵	۰/۵	۵
۶	نوع سنگ و رسوبات - همگنی یا ناهمگنی جنس سنگ ها - ارتفاع ساحل - فعالیت های آتش فشانی و فعالیت انسانی (۳ مورد هر کدام ۰/۲۵)	۰/۲۵	۶
۷	الف) ایسلند (ب) ارتفاع (ج) استوایی (د) گوزن شمالی (هرکدام ۰/۲۵)	۰/۲۵	۷
۸	ازدیاد جمعیت از یک سو و پیشرفت های شگرف فن آوری از سوی دیگر ۰/۲۵ نمره ۰/۲۵ نمره	۰/۵	۸
۹	به دلیل شیب زیاد و خاک نامناسب فعالیت کشاورزی محدود است. (۲ مورد هر کدام ۰/۲۵)	۰/۵	۹
۱۰	الف) بیابان زایی (ب) سیف (ج) باد (د) سلوا (هرکدام ۰/۲۵)	۰/۲۵	۱۰
۱۱	سرمایه - تخصص و فن آوری (۳ مورد هر کدام ۰/۲۵)	۰/۲۵	۱۱
۱۲	الف) افزایش (ب) کم تر (هرکدام ۰/۲۵)	۰/۵	۱۲
۱۳	الف) هوای پرفشار مناطق قطبی با حرکت به سمت عرض های پایین تر جغرافیایی موجب وزش باد های سرد و خشک می شود. (۰/۵ نمره) ب) در اول تیر ماه و اول دی ماه (۰/۵ نمره) ج) حد فاصل بین نروژ و روسیه (۰/۵ نمره) د) تاریخچه تحولات آب وهوابی - ترکیبات جو - فعالیت های آتشفشان ها و میزان مواد شیمیایی موجود در کره زمین (۳ مورد هر کدام ۰/۲۵ جمعاً ۰/۷۵)	۲/۲۵	۱۳
۱۴	الف) غلط ۰/۲۵ راه های ارتباطی یا حمل و نقل ۰/۲۵ (ج) غلط ۰/۲۵ نساجی ۰/۲۵ یا نام هر شهری مثل اراک یا تبریز که درزمینه ماشین سازی فعالیت می کند را بنویسند نمره تعلق گیرد	۰/۲۵	۱۴
۱۵	نیروی کار فراوان روستا ها ۰/۲۵ و تولیدات کشاورزی ۰/۲۵	۰/۵	۱۵

مدت امتحان: ۹۰ دقیقه	ساعت شروع: ۸ صبح	رشته: ادبیات و علوم انسانی	راهنمای تصحیح امتحان نهایی درس جغرافیا (۲)
تاریخ امتحان: ۱۰ / ۳ / ۱۳۹۱		سال سوم آموزش متوسطه	
مرکز سنجش آموزش و پرورش http://aee.medu.ir		دانش آموزان و داوطلبان آزاد سراسر کشور خرداد ماه سال ۱۳۹۱	
نمره	راهنمای تصحیح		ردیف
۰/۵	(ب) بنیاد مسکن انقلاب اسلامی (هر کدام ۰/۲۵)		۱۶
۰/۷۵	(ج) کمبریج - برکلی - تسو کو با		۱۷
	(ب) لورد - بنارس (ب) مشهد - قم - لورد - بنارس		
	(هر کدام ۰/۲۵) یا هر مورد مشابه درست		
۰/۷۵	(ج) زیباله های جامد (هر کدام ۰/۲۵)		۱۸
	(ب) افکار		
۱	حکومت بعد عمودی، تشکیلاتی، اداری و قانونی یک کشور است اما حاکمیت یکی از ویژگی های حکومت است حاکمیت یعنی داشتن استقلال یا برکنار بودن از نظارت و دخالت دولت های خارجی		۱۹
	۰/۲۵ ۰/۲۵ ۰/۲۵		
۰/۷۵	قدرت ناشی از ساختار جغرافیایی - قدرت سازماندهی - قدرت جمعیتی - قدرت ناشی از روابط خارجی - قدرت اقتصادی - قدرت نظامی (۳ مورد هر کدام ۰/۲۵)		۲۰
۱	(ب) دنباله کو ههای زاگرس (ج) دوران سوم زمین شناسی (د) ورزش های آبی (هر کدام ۰/۲۵)		۲۱
۱	تجارت جریان مواد، کالا و خدمات از تولید کننده به سمت مصرف کننده است. (۴ مورد هر کدام ۰/۲۵)		۲۲
	۰/۲۵ ۰/۲۵ ۰/۲۵ ۰/۲۵		
۰/۵	اوپک، اکو و..... (۲ مورد هر کدام ۰/۲۵)		۲۳
۱/۲۵	(الف) رسم نیمرخ توپوگرافی (۰/۵)		۲۴
			
	(ب) تپه یا کوه (۰/۲۵) (ج) متر ۸۰ = ۱۴۸۰ - ۱۴۰۰ (۰/۵ نمره) راه حل ۰/۲۵ نمره جواب ۰/۲۵ نمره		
	http://nemesoal.com		
	در نهایت نظر همکاران محترم صائب است		